



**LOGRO 1: RECONOCE LOS NÚMEROS HASTA 99, EFECTUANDO ADICIONES SIN AGRUPACIÓN CON UNIDADES Y DECENAS.**

1. Escribe el nombre del número:

8 \_\_\_\_\_

15 \_\_\_\_\_

64 \_\_\_\_\_

56 \_\_\_\_\_

60 \_\_\_\_\_



2. Realiza las siguientes adiciones sin agrupación.


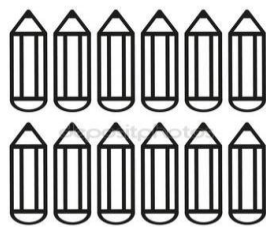
$$\begin{array}{|c|c|} \hline 3 & 4 \\ \hline 3 & 1 \\ \hline & \\ \hline \end{array}
 +
 \begin{array}{|c|c|} \hline 5 & 1 \\ \hline 3 & 8 \\ \hline & \\ \hline \end{array}
 +
 \begin{array}{|c|c|} \hline 3 & 6 \\ \hline 4 & 2 \\ \hline & \\ \hline \end{array}
 +
 \begin{array}{|c|c|} \hline 5 & 1 \\ \hline 2 & 2 \\ \hline & \\ \hline \end{array}$$

$$\begin{array}{|c|c|} \hline 4 & 1 \\ \hline 2 & 5 \\ \hline & \\ \hline \end{array}
 +
 \begin{array}{|c|c|} \hline 1 & 5 \\ \hline 5 & 4 \\ \hline & \\ \hline \end{array}
 +
 \begin{array}{|c|c|} \hline 4 & 0 \\ \hline 3 & 6 \\ \hline & \\ \hline \end{array}
 +
 \begin{array}{|c|c|} \hline 5 & 2 \\ \hline 2 & 4 \\ \hline & \\ \hline \end{array}$$

**LOGRO 2: REALIZA SUSTRACCIONES SOLUCIONANDO SITUACIONES MATEMÁTICAS UTILIZANDO NÚMEROS DE DOS DÍGITOS.**



3. Problemas

Hay 12 colores y encuentro 6. ¿Cuántas tengo en total? \_\_\_\_\_



$$\begin{array}{|c|c|} \hline & \\ \hline & \\ \hline & \\ \hline \end{array}
 +
 \begin{array}{|c|c|} \hline & \\ \hline & \\ \hline & \\ \hline \end{array}$$

4. Tengo 20 flores y encuentro 20. ¿Cuántas tengo en total? \_\_\_\_\_



$$\begin{array}{|c|c|} \hline & \\ \hline & \\ \hline & \\ \hline \end{array}
 +
 \begin{array}{|c|c|} \hline & \\ \hline & \\ \hline & \\ \hline \end{array}$$

5. Cuenta las imágenes y los números; escribe el resultado.

$\heartsuit + 3 =$	$\heartsuit \heartsuit + 1 =$
$2 + \text{stars} =$	$6 + \text{stars} =$
$1 + \text{circles} =$	$4 + \text{circles} =$
$\triangle + 5 =$	$\triangle \triangle + 2 =$
$4 + \text{brackets} =$	$3 + \text{brackets} =$

LOGRO 3: RECONOCE LA CENTENA COMO GRUPO DE 100 UNIDADES Y DIEZ DECENAS, DESCOMPONENDO CANTIDADES POR MEDIO DE MATERIAL CONCRETO Y SEMICONCRETO.

6. Completa la siguiente tabla según el valor posicional de cada número.

NUMERO	CENTENAS	DECENAS	UNIDADES	NOMBRE
110				
278				
334				
480				

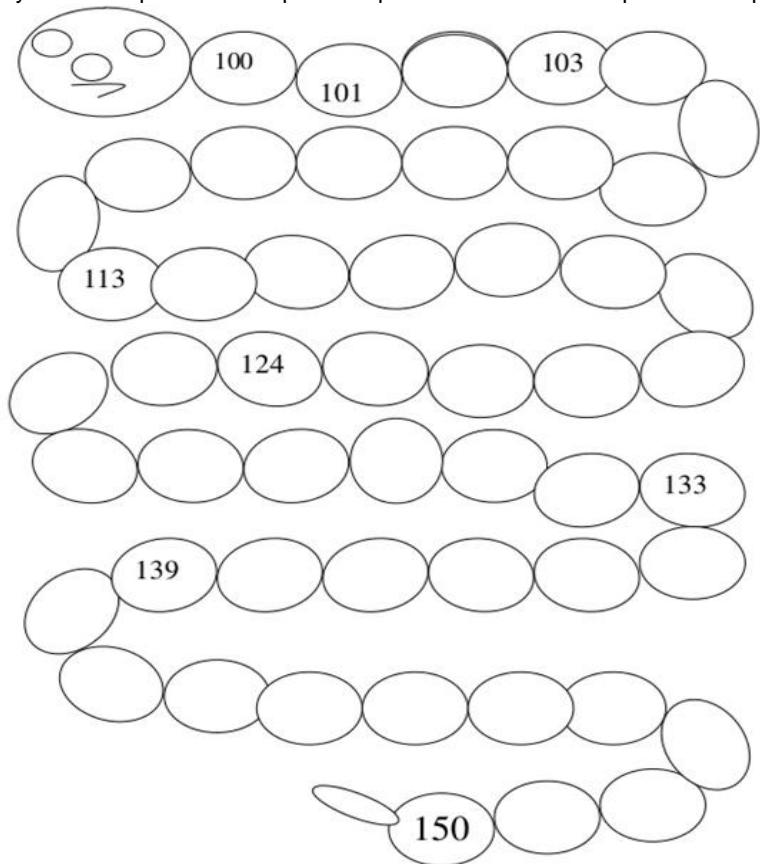
7. Completa con rayitas cada ábaco hasta determinar las unidades, decenas y centenas en cada uno

1	0	9		1	2	8
C	D	U		C	D	U

1	3	4		1	5	2
C	D	U		C	D	U

1	7	3		1	9	9
C	D	U		C	D	U

8. Ayuda a completar al ciempiés completando los números que le faltan para que sea feliz.



**LOGRO 4: REALIZA MEDICIONES CON LA REGLA IDENTIFICANDO EL CENTÍMETRO COMO MEDIDA DE LONGITUD EN LA ELABORACIÓN DE FIGURAS PLANAS.**

9. Observa las figuras y escribe sus medidas correspondientes. Luego colorea la que es de mayor tamaño

Pen:  cm

Train:  cm

Spoon:  cm

Brush:  cm