



Escribe tu nombre completo, ten en cuenta las mayúsculas y el manejo del renglón.

\_\_\_\_\_

\_\_\_\_\_

\_\_\_\_\_

**LOGRO 1: ASOCIA EXPRESIONES CORTAS EN LETRA IMPRENTA Y CURSIVA.  
ACTIVIDADES**

1. Escribe en letra cursiva o script según se requiera.

**semillas** \_\_\_\_\_ *tierra* \_\_\_\_\_.

**tulipán** \_\_\_\_\_ *agua* \_\_\_\_\_.

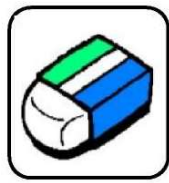
**planta** \_\_\_\_\_ *raíz* \_\_\_\_\_.

**tallo** \_\_\_\_\_ *fruto* \_\_\_\_\_.

**LOGRO 2. IDENTIFICA LA SECUENCIA AUDITIVA DE FONEMAS PARA CONFORMAR UNA PALABRA Y LA ESCRIBE.**

**ACTIVIDADES**

2. Observa las imágenes, y escribe cada una de ellas.



• \_\_\_\_\_

\* \_\_\_\_\_



• \_\_\_\_\_

\* \_\_\_\_\_



• \_\_\_\_\_

\* \_\_\_\_\_

3. Díctame palabritas:

- \_\_\_\_\_
- \_\_\_\_\_
- \_\_\_\_\_
- \_\_\_\_\_
- \_\_\_\_\_
- \_\_\_\_\_

LOGRO 3. LEE COMPRENSIVAMENTE Y COMIENZA A CONSTRUIR FRASES CORTAS CON SIGNIFICADO, INCLUYENDO LAS CONSONANTES VISTAS E INDAGA POR LAS QUE NO LE SON FAMILIARES.

ACTIVIDADES

4. Lee y completa la frase

El  esta ladrando



El niño juega con la



5. Lee y dibuja

**Mi mamá come una rica paleta.**






**LOGRO 1: MANTIENE UNA ADECUADA ATENCIÓN Y CONCENTRACIÓN COMPRENDIENDO Y SIGUIENDO LAS INSTRUCCIONES DURANTE EL DESARROLLO DE JUEGOS Y ACTIVIDADES.**

**ACTIVIDADES**

1. Colorea los animales según las instrucciones de abajo.



- Hay dos pulpos rojos.
- Hay un burro marrón.
- Hay cinco mariquitas rojas.
- Hay dos gatos naranjas y uno negro.
- Hay un elefante rosa y otro gris.
- Hay dos loros verdes, uno azul y otro morado.
- Hay un guepardo gris y dos naranjas

















**LOGRO 2. RECONOCE EL NÚMERO QUE VA ANTES Y DESPUÉS EN LA SERIE DEL 1 AL 30.**

**ACTIVIDADES**

2. Escribe los números que hacen falta en la secuencia.

1	2				7			
		13			16			20
			24				28	

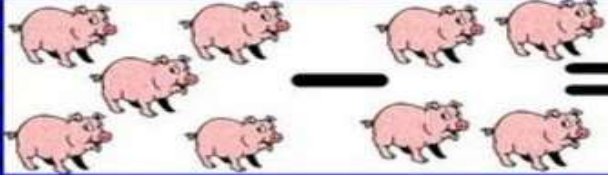






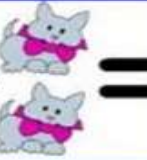


3. Escribe dentro de los frutos, el número que va antes y después al indicado.







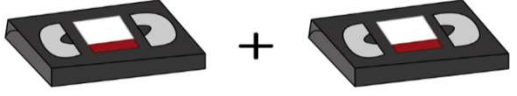



	$\leftarrow$ <span style="border: 1px solid black; padding: 2px 10px;">12</span> $\rightarrow$			$\leftarrow$ <span style="border: 1px solid black; padding: 2px 10px;">9</span> $\rightarrow$	
	$\leftarrow$ <span style="border: 1px solid black; padding: 2px 10px;">15</span> $\rightarrow$			$\leftarrow$ <span style="border: 1px solid black; padding: 2px 10px;">28</span> $\rightarrow$	
	$\leftarrow$ <span style="border: 1px solid black; padding: 2px 10px;">23</span> $\rightarrow$			$\leftarrow$ <span style="border: 1px solid black; padding: 2px 10px;">17</span> $\rightarrow$	
	$\leftarrow$ <span style="border: 1px solid black; padding: 2px 10px;">16</span> $\rightarrow$			$\leftarrow$ <span style="border: 1px solid black; padding: 2px 10px;">25</span> $\rightarrow$	

LOGRO 3. RESUELVE PROBLEMAS SENCILLOS LÓGICO MATEMÁTICO DE SUMA Y RESTA.

ACTIVIDADES

4. Resuelve

	$-$		$=$	
	$-$		$=$	
	$-$		$=$	
	$-$		$=$	
	$-$		$=$	

 +  =	
 +  =	
 +  =	
 +  =	
 +  =	

5. Resuelve los siguientes problemas matemáticos.

**1** Hay 5 peras y me como 2. ¿Cuántas quedan?



**2** Hay 6 magdalenas y me como 2. ¿Cuántas quedan?



**3** Tenía 10 galletas. Si me como 3, ¿cuántas me quedan?



**4** Tengo 7 mariquitas y encuentro 3. ¿Cuántas tengo en total?



**5** Tengo 5 flores y encuentro 3 más. ¿Cuántas tengo en total?

