



Asignatura: P. Lógico

Fecha:

DOCENTE: Marly Figueroa Sarria

Nombre:

GRADO: Primero A Y B

1. Escribe el nombre del número:

12: _____

37: _____

44: _____

56: _____

98: _____



2. Realiza las siguientes adiciones sin agrupación.

$$\begin{array}{r}
 + \quad \begin{array}{|c|c|} \hline 5 & 6 \\ \hline 2 & 0 \\ \hline & \\ \hline \end{array} \\
 \end{array}$$



$$+ \quad \begin{array}{|c|c|} \hline 2 & 5 \\ \hline 5 & 0 \\ \hline & \\ \hline \end{array}$$

$$+ \quad \begin{array}{|c|c|} \hline 8 & 4 \\ \hline 1 & 2 \\ \hline & \\ \hline \end{array}$$

$$+ \quad \begin{array}{|c|c|} \hline 3 & 1 \\ \hline 3 & 4 \\ \hline & \\ \hline \end{array}$$

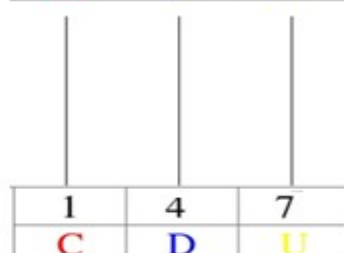
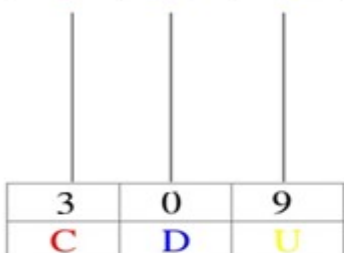
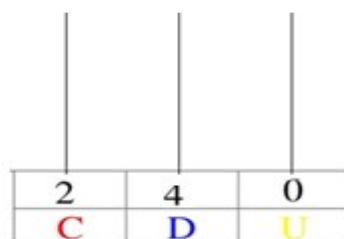
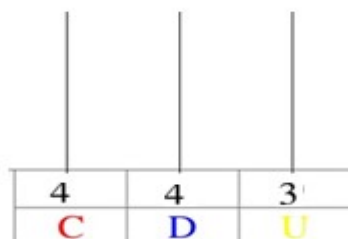
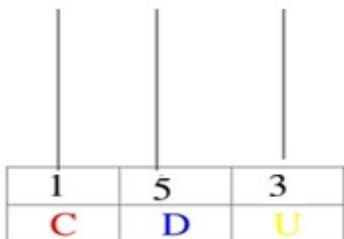
$$+ \quad \begin{array}{|c|c|} \hline 3 & 8 \\ \hline 6 & 0 \\ \hline & \\ \hline \end{array}$$

3. Tengo 30 manzanas y me regalan 25. ¿Cuántas tengo en total? _____



$$+ \quad \begin{array}{|c|c|} \hline & \\ \hline & \\ \hline & \\ \hline \end{array}$$

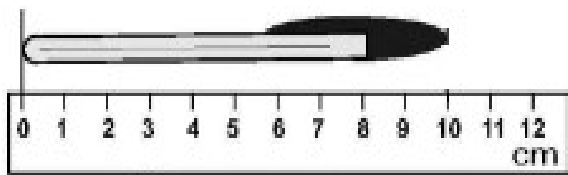
Completa con rayitas cada ábaco hasta completarlo correctamente.



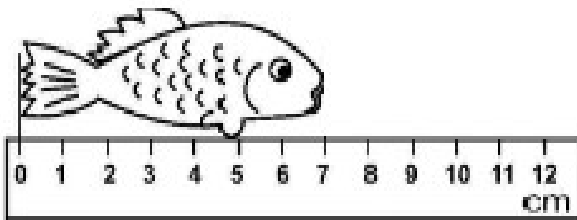
4. Completa la siguiente tabla según el valor posicional de cada número.

NÚMERO	CENTENAS	DECENAS	UNIDADES	NOMBRE
137				
346				
459				
515				
621				

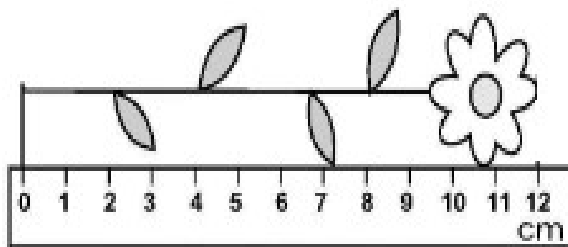
5. Observa las figuras y escribe sus medidas correspondientes. Luego colorea la que es de mayor tamaño.



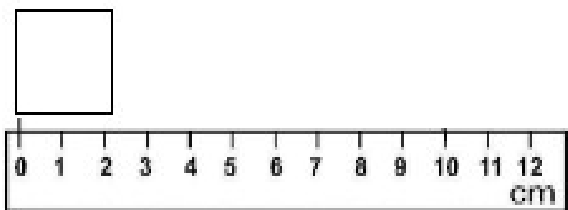
centímetros



centímetros



centímetros



centímetros